

Nombre _____

Conceptos y destrezas

Encierra en un círculo el número mayor.
Cuenta hacia adelante para sumar.

<input type="radio"/> $\begin{array}{r} 9 \\ +1 \\ \hline \end{array}$	<input type="radio"/> $\begin{array}{r} 2 \\ +7 \\ \hline \end{array}$	<input type="radio"/> $\begin{array}{r} 3 \\ +8 \\ \hline \end{array}$	<input type="radio"/> $\begin{array}{r} 6 \\ +3 \\ \hline \end{array}$	<input type="radio"/> $\begin{array}{r} 5 \\ +2 \\ \hline \end{array}$	<input type="radio"/> $\begin{array}{r} 3 \\ +9 \\ \hline \end{array}$
--	--	--	--	--	--

Escribe la suma.

Encierra en un círculo los dobles.

$5 + 5 = \underline{\quad}$

$6 + 1 = \underline{\quad}$

$3 + 3 = \underline{\quad}$

$9 + 2 = \underline{\quad}$

Escribe la suma.

<input type="radio"/> $\begin{array}{r} 3 \\ 3 \\ +1 \\ \hline \end{array}$	<input type="radio"/> $\begin{array}{r} 2 \\ 4 \\ +4 \\ \hline \end{array}$	<input type="radio"/> $\begin{array}{r} 5 \\ 5 \\ +2 \\ \hline \end{array}$	<input type="radio"/> $\begin{array}{r} 3 \\ 2 \\ +1 \\ \hline \end{array}$	<input type="radio"/> $\begin{array}{r} 4 \\ 3 \\ +2 \\ \hline \end{array}$
---	---	---	---	---

Suma.

Completa las tablas.

Suma 2.

6	
8	
9	

Suma 3.


4	
9	
7	

Suma 4.

5	
6	
8	

Suma. Luego resta.

19

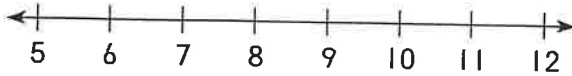


$$8 + 4 = \underline{\quad}$$

$$12 - 4 = \underline{\quad}$$


Resta.

20 Cuenta hacia atrás.



$$11 - 3 = \underline{\quad}$$

21 Compara.



$$11 - 7 = \underline{\quad}$$

Suma o resta.

22 $6 + 5 = \underline{\quad}$

$11 - 5 = \underline{\quad}$

$5 + 6 = \underline{\quad}$

$11 - 6 = \underline{\quad}$

Resolver problemas

Escribe el enunciado numérico.

23 Tenía 12 monedas.
Perdí 5. ¿Cuántas
monedas me
quedan?



$$\underline{\quad} - \underline{\quad} = \underline{\quad}$$

_____ monedas

24 Hay 11 varones.
Hay 9 niñas.
¿Cuántos más varones
que niñas hay?

$$\underline{\quad} - \underline{\quad} = \underline{\quad}$$

_____ varones más



Evaluación del rendimiento

Usa el Tapete 2 y 11 ●.

1 Pon ● en uno de los lados.

Pon ● en el otro lado. Dibuja y colorea las fichas.



Escribe una operación de suma.

$$\underline{\quad} + \underline{\quad} = \underline{11}$$

Escribe una operación de resta relacionada.

$$\underline{11} - \underline{\quad} = \underline{\quad}$$

Ahora usa 12 fichas para mostrar operaciones relacionadas con 12.

2 $\underline{\quad} + \underline{\quad} = \underline{12}$

$\underline{12} - \underline{\quad} = \underline{\quad}$


3 $\underline{\quad} + \underline{\quad} = \underline{12}$

$\underline{12} - \underline{\quad} = \underline{\quad}$

Por escrito

4 Cuéntale a un compañero un cuento de suma y uno de resta sobre estas operaciones relacionadas.

Haz dibujos de los cuentos.



$$4 + 7 = 11$$


$$11 - 7 = 4$$

Nombre _____

Capítulos 1-12
Repaso
acumulativo

Rellena el de la respuesta correcta.

1 Halla la suma.



- 3
- 4
- 5
- 6

$2 + 3 = \underline{\quad}$

2 Suma o resta.
Usa ●.



- 2
- 3
- 4
- 6

Había 4 pájaros en un árbol. Se fueron 2.
¿Cuántos quedaron?

3



$5 + 3 = \underline{\quad}$

- 2
- 7
- 8
- 9

4



$$\begin{array}{r} 5 \\ + 3 \\ \hline \end{array}$$

- 2
- 7
- 9
- 8

5

$$\begin{array}{r} 7 \\ + 4 \\ \hline \end{array}$$

- 9
- 10
- 11
- 12

6

$$\begin{array}{r} 6 \\ + 6 \\ \hline \end{array}$$

- 6
- 10
- 11
- 12

7

$$\begin{array}{r} 12 \\ - 3 \\ \hline \end{array}$$

- 7
- 8
- 9
- 10

8

$$\begin{array}{r} 11 \\ - 8 \\ \hline \end{array}$$


- 2
- 3
- 4
- 5

9 ¿Qué objeto tiene la misma forma que la caja?



-
-

10 ¿Qué figura rueda?



-
-
-
-